

ارزشیابی درس ریاضی

* از اول تا آخر کتاب *

سال تحصیلی ۱۴۰۱-۱۴۰۰

پایه دوم

نام و نام خانوادگی:

۱) یک عدد دو رقمی بنویس که رقم یکان بزرگترین عدد یک رقمی و رقم دهگان آن یک عدد زوج باشد.

.....

۲) نازنینم همه ی عددهای دو رقمی را که می توان با رقم های (۵, ۲, ۹) برای یکان و (۶ و ۳) برای دهگان نوشت، بنویس.

۳) دلبندم جمع و تفریق های زیر را انجام بده. (از راه گسترده یا فرایندی)


$\begin{array}{r} 35 \\ - 28 \\ \hline \end{array}$	$\begin{array}{r} 27 \\ + 45 \\ \hline \end{array}$	$\begin{array}{r} 214 \\ + 345 \\ \hline \end{array}$	$\begin{array}{r} 547 \\ - 125 \\ \hline \end{array}$
.....
-	+	+	-
.....
.....

جزوه سیپی

۴) گل نازم، جواب جمع و تفریق های زیر را به صورت تقریبی به دست آور.

$\begin{array}{r} 81 \rightarrow \\ - 37 \rightarrow \\ \hline \end{array}$	$\begin{array}{r} 47 \rightarrow \\ + 31 \rightarrow \\ \hline \end{array}$	$\begin{array}{r} 89 \rightarrow \\ - 52 \rightarrow \\ \hline \end{array}$	$\begin{array}{r} 36 \rightarrow \\ + 25 \rightarrow \\ \hline \end{array}$
---	---	---	---

۵) شباهت و تفاوت شکل های زیر را بنویس.



تفاوت:

شباهت:

۶) الگوهای زیر را ادامه بده .

۳، ۴، ۶، ۹،،،

۲۳۶، ۳۳۶،،،

۷۲۰، ۷۳۰،،،

۷) قد علی ۱۵۴ سانتی متر است . خواهرش ۱۷ سانتی متر از او کوتاه تر است . قد این دو نفر روی هم چند سانتی متر است ؟

۸) در داخل کیسه ای ۷ مهره ی قرمز و ۲ مهره ی آبی و ۵ مهره ی سفید وجود دارد . جمله ها را کامل کن .
..... مهره از مهره قرمز است .
..... مهره از مهره آبی است .
..... مهره از مهره سفید است .

۹) جمع و تفریق های زیر را انجام بده (از راه تکنیکی یا کوتاه)

$$\begin{array}{r} 257 \\ + 168 \\ \hline \end{array}$$

$$\begin{array}{r} 600 \\ - 473 \\ \hline \end{array}$$

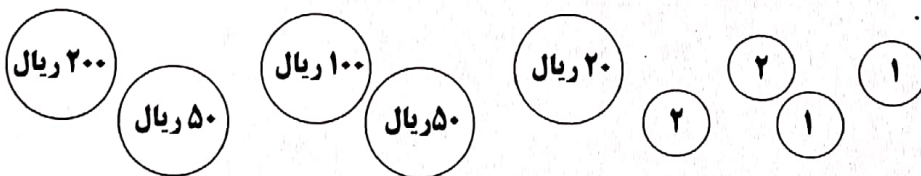
$$\begin{array}{r} 109 \\ + 237 \\ \hline \end{array}$$

$$\begin{array}{r} 423 \\ - 256 \\ \hline \end{array}$$

۱۰) پاسخ بده .

ساعت ۱۲ است . یک ساعت و ربع دیگر ساعت چند است ؟
۲۰ دقیقه بعد از ساعت ۳:۱۵ چه ساعتی است ؟
یک ربع بعد از ساعت ۵:۴۵ چه ساعتی است ؟

۱۱) ارزش سکه ها را بنویس .



..... ریال

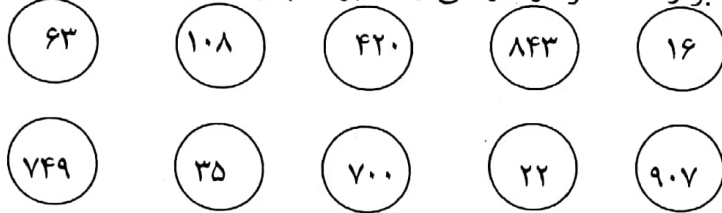
۱۲) گلم ، قبل و بعد اعداد زیر را بنویس .

	۴۶۹			۲۱۰			۷۰۰	
--	-----	--	--	-----	--	--	-----	--

۱۳) کامل کن .

- ۷۰ میلی متر سانتی متر است .
۴ سانتی متر میلی متر است .
۱۰۸ میلی متر سانتی متر و میلی متر است .
۵ سانتی متر و ۷ میلی متر میلی متر است .
۶۳ میلی متر سانتی متر و میلی متر است .
۱۲ سانتی متر میلی متر است .

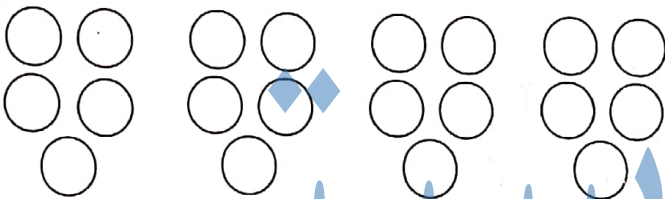
۱۴) اعداد زوج را سبز و اعداد فرد را نارنجی رنگ بزن سپس از بزرگ به کوچک بنویس .



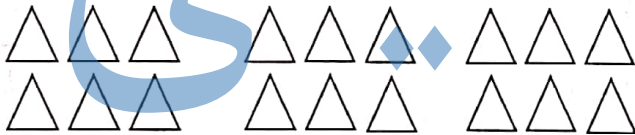
اعداد زوج :

اعداد فرد :

۱۵) با توجه به شکل ها ، در جاهای خالی عدد مناسب بنویس و جملات را کامل کن .



..... دسته ی تایی می شود



..... دسته ی تایی می شود

۱۶) با کارت های (۲، ۰، ۵) بزرگ ترین و کوچک ترین عدد ۳ رقمی را بساز و بنویس .

کوچک ترین :

بزرگ ترین :

سربلند و پیروز باشید

وهم آزاد